

Name:

Matrikelnr.:

Fach:

Aufgabe	1	2	3	4	5	6	7	8	Summe
Punkte									

Bitte beachten Sie die folgenden **Hinweise**:

- **Bearbeitungszeit:** 90 Minuten
- **Erlaubte Hilfsmittel:** Zwei handschriftlich beschriebene Seiten DIN A4 Papier.
- Es wird nur die Angabe von Endergebnissen verlangt. Nebenrechnungen werden nicht gewertet und daher auch nicht eingesammelt.

Viel Erfolg!

Aufgabe 1 (1 Punkt) Bitte geben Sie den Namen Ihres Tutors bzw. Ihrer Tutorin und die Nummer Ihrer Übungsgruppe an.

Name des Tutors/der Tutorin:

Gruppennr.:

Aufgabe 2 (6 Punkte) Gegeben sei \mathbb{R}^2 mit Standardkoordinatensystem $\mathbb{E} = (\vec{0}; e_1, e_2)$. Darin sind die Punkte P_0 , P_1 und P_2 gegeben durch:

$${}_{\mathbb{E}}P_0 = (3, 5), \quad {}_{\mathbb{E}}P_1 = (1, 4), \quad {}_{\mathbb{E}}P_2 = (0, 2).$$

Gesucht ist nun ein zweites Koordinatensystem $\mathbb{F} = (U; f_1, f_2)$ mit

$${}_{\mathbb{F}}P_0 = (0, 0), \quad {}_{\mathbb{F}}P_1 = (1, 0), \quad {}_{\mathbb{F}}P_2 = (0, 1).$$

Geben Sie das Koordinatensystem \mathbb{F} und die Koordinatentransformation ${}_{\mathbb{E}}\kappa_{\mathbb{F}}$ an:

$$\mathbb{F} = \left(\begin{array}{c} \boxed{} \\ \boxed{} \\ \boxed{} \end{array} ; \begin{array}{c} \boxed{} \\ \boxed{} \\ \boxed{} \end{array} , \begin{array}{c} \boxed{} \\ \boxed{} \\ \boxed{} \end{array} \right) \quad {}_{\mathbb{E}}\kappa_{\mathbb{F}} : \mathbb{R}^2 \rightarrow \mathbb{R}^2 \quad v \mapsto \begin{pmatrix} \boxed{} \\ \boxed{} \\ \boxed{} \end{pmatrix} \cdot v + \begin{pmatrix} \boxed{} \\ \boxed{} \\ \boxed{} \end{pmatrix}.$$

Aufgabe 3 (6 Punkte) Sei $A \in \mathbb{R}^{n \times n}$ und sei v ein Eigenvektor von A . Kreuzen Sie an, welche der folgenden Aussagen wahr bzw. falsch sind (Achtung, falsche Antworten geben Punktabzug):

- Wenn A orthogonal ist, dann gilt $\text{Rg}(A) = n$ wahr falsch
- v ist Eigenvektor von $A^4 + A^3 + E_n$ wahr falsch
- $A + A^T$ ist diagonalisierbar wahr falsch
- Wenn A lauter verschiedene Eigenwerte hat, dann ist A diagonalisierbar wahr falsch
- A ist regulär genau dann, wenn 0 Eigenwert von A ist wahr falsch
- Wenn A diagonalisierbar ist, dann hat A lauter verschiedene Eigenwerte wahr falsch

Aufgabe 4 (13 Punkte) Gegeben ist die Matrix

$$A = \begin{pmatrix} 1 & 4 & 2 \\ 4 & 1 & 2 \\ 2 & 2 & -2 \end{pmatrix}.$$

- Verifizieren Sie, dass $x_1 = (1, -1, 0)^T$ ein Eigenvektor von A ist. Wie lautet der zugehörige Eigenwert λ_1 ? $\lambda_1 = \square$
- Der zu λ_1 gehörige Eigenraum $V(\lambda_1)$ ist zweidimensional. Geben Sie eine orthogonale Basis von $V(\lambda_1)$ an:

$$x_1 = \begin{pmatrix} 1 \\ -1 \\ 0 \end{pmatrix}; x_2 = \begin{pmatrix} \square \\ \square \\ \square \end{pmatrix}.$$

- Bestimmen Sie eine Orthonormalbasis von \mathbb{R}^3 aus Eigenvektoren von A :

$$\begin{pmatrix} \square \\ \square \\ \square \end{pmatrix}, \begin{pmatrix} \square \\ \square \\ \square \end{pmatrix}, \begin{pmatrix} \square \\ \square \\ \square \end{pmatrix}.$$

- Geben Sie die zugehörigen Eigenwerte an:

$$\square, \square, \square.$$

- Geben Sie eine orthogonale Matrix T an, so dass $T^{-1}AT = D$ eine Diagonalmatrix ist. Wie lautet D ?

$$T = \begin{pmatrix} \square & \square & \square \\ \square & \square & \square \\ \square & \square & \square \end{pmatrix}; D = \begin{pmatrix} \square & & \\ & \square & \\ & & \square \end{pmatrix}.$$

Aufgabe 5 (8 Punkte) Gegeben sei die Matrix A :

$$A = \begin{pmatrix} -3 & 0 & -1 \\ 1 & 2 & 2 \\ 2 & 1 & 4 \end{pmatrix}$$

Entwickeln Sie $\det(A - \lambda E_3)$ nach der 2. Spalte:

$$\det(A - \lambda E_3) = \boxed{} \cdot \det \begin{pmatrix} \boxed{} & \boxed{} & \boxed{} \\ \boxed{} & \boxed{} & \boxed{} \\ \boxed{} & \boxed{} & \boxed{} \end{pmatrix} + \boxed{} \cdot \det \begin{pmatrix} \boxed{} & \boxed{} & \boxed{} \\ \boxed{} & \boxed{} & \boxed{} \\ \boxed{} & \boxed{} & \boxed{} \end{pmatrix} + \boxed{} \cdot \det \begin{pmatrix} \boxed{} & \boxed{} & \boxed{} \\ \boxed{} & \boxed{} & \boxed{} \\ \boxed{} & \boxed{} & \boxed{} \end{pmatrix}$$

Geben Sie das charakteristische Polynom χ_A von A an:

$$\chi_A(\lambda) = \boxed{}$$

Aufgabe 6 (14 Punkte) Gegeben sind die Matrix

$$A = \begin{pmatrix} 2 & -6 & 6 \\ 1 & 1 & 0 \\ 1 & 2 & -1 \end{pmatrix} \quad \text{und die reguläre Matrix} \quad B = \begin{pmatrix} 1 & 3 & -2 \\ -4 & -13 & 10 \\ 2 & 7 & -8 \end{pmatrix}.$$

Das charakteristische Polynom von A ist

$$\chi_A(\lambda) = -(\lambda - 1)(\lambda^2 - \lambda - 2).$$

1. Bestimmen Sie die Eigenwerte der Matrix A :

$$\lambda_1 = \boxed{}, \quad \lambda_2 = \boxed{}, \quad \lambda_3 = \boxed{}.$$

Berechnen Sie zu jedem Eigenwert einen Eigenvektor:

$$x_1 = \begin{pmatrix} \boxed{} \\ \boxed{} \\ \boxed{} \end{pmatrix}, \quad x_2 = \begin{pmatrix} \boxed{} \\ \boxed{} \\ \boxed{} \end{pmatrix}, \quad x_3 = \begin{pmatrix} \boxed{} \\ \boxed{} \\ \boxed{} \end{pmatrix}.$$

2. Geben Sie die Eigenwerte der Matrix $C = B^{-1}AB$ an:

$$\lambda_1 = \boxed{}, \quad \lambda_2 = \boxed{}, \quad \lambda_3 = \boxed{}.$$

3. Berechnen Sie: $\det B = \boxed{}$, $\det A = \boxed{}$, $\det(B^{-1}A) = \boxed{}$, $\text{Sp} C = \boxed{}$

Aufgabe 7 (5 Punkte) Gegeben ist die Matrix

$$A = \begin{pmatrix} \frac{1}{\sqrt{3}} & a & -\frac{1}{\sqrt{2}} \\ \frac{1}{\sqrt{3}} & b & \frac{1}{\sqrt{2}} \\ \frac{1}{\sqrt{3}} & c & 0 \end{pmatrix}$$

Geben Sie den zweiten Spaltenvektor der Matrix A so an, dass A orthogonal ist mit $\det A = 1$:

$(a, b, c) =$

Aufgabe 8 (11 Punkte)

Gegeben sei die Quadrik $Q = \left\{ (x_1, x_2, x_3)^T \in \mathbb{R}^3 \mid x_1^2 - x_2^2 - x_3^2 - 1 = 0 \right\}$.

1. Schneiden Sie die Quadrik Q mit der Ebene $x_2 = 0$.

Gleichung für den Schnitt:

Gestalt des Schnitts:

2. Schneiden Sie die Quadrik Q mit der Ebene $x_1 = 2$.

Gleichung für den Schnitt:

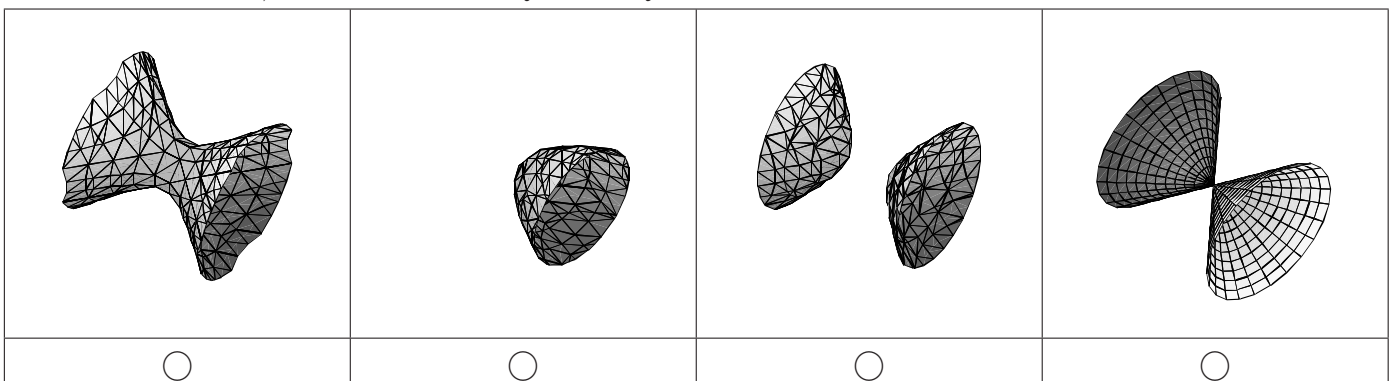
Gestalt des Schnitts:

3. Schneiden Sie die Quadrik Q mit der Ebene $x_1 = 0$.

Gleichung für den Schnitt:

Gestalt des Schnitts:

4. Kreuzen Sie an, welches Bild die Quadrik Q darstellt:



Name:

Matrikelnr.:

Fach:

Aufgabe	1	2	3	4	5	6	7	8	Summe
Punkte									

Bitte beachten Sie die folgenden **Hinweise**:

- **Bearbeitungszeit:** 90 Minuten
- **Erlaubte Hilfsmittel:** Zwei handschriftlich beschriebene Seiten DIN A4 Papier.
- Es wird nur die Angabe von Endergebnissen verlangt. Nebenrechnungen werden nicht gewertet und daher auch nicht eingesammelt.

Viel Erfolg!

Aufgabe 1 (1 Punkt) Bitte geben Sie den Namen Ihres Tutors bzw. Ihrer Tutorin und die Nummer Ihrer Übungsgruppe an.

Name des Tutors/der Tutorin:

Gruppennr.:

Aufgabe 2 (6 Punkte) Gegeben sei \mathbb{R}^2 mit Standardkoordinatensystem $\mathbb{E} = (\vec{0}; e_1, e_2)$. Darin sind die Punkte P_0 , P_1 und P_2 gegeben durch:

$${}_{\mathbb{E}}P_0 = (-1, 3), \quad {}_{\mathbb{E}}P_1 = (2, 7), \quad {}_{\mathbb{E}}P_2 = (-4, 3).$$

Gesucht ist nun ein zweites Koordinatensystem $\mathbb{F} = (U; f_1, f_2)$ mit

$${}_{\mathbb{F}}P_0 = (0, 0), \quad {}_{\mathbb{F}}P_1 = (1, 0), \quad {}_{\mathbb{F}}P_2 = (0, 1).$$

Geben Sie das Koordinatensystem \mathbb{F} und die Koordinatentransformation ${}_{\mathbb{E}}\kappa_{\mathbb{F}}$ an:

$$\mathbb{F} = \left(\begin{pmatrix} \\ \end{pmatrix}; \begin{pmatrix} \\ \end{pmatrix}, \begin{pmatrix} \\ \end{pmatrix} \right) \quad {}_{\mathbb{E}}\kappa_{\mathbb{F}} : \mathbb{R}^2 \rightarrow \mathbb{R}^2 \quad v \mapsto \begin{pmatrix} \\ \end{pmatrix} \cdot v + \begin{pmatrix} \\ \end{pmatrix}.$$

Aufgabe 3 (6 Punkte) Sei $A \in \mathbb{R}^{n \times n}$ und sei v ein Eigenvektor von A . Kreuzen Sie an, welche der folgenden Aussagen wahr bzw. falsch sind (Achtung, falsche Antworten geben Abzug):

- | | | |
|--|----------------------------|------------------------------|
| Wenn A diagonalisierbar ist, dann hat A lauter verschiedene Eigenwerte | wahr <input type="radio"/> | falsch <input type="radio"/> |
| v ist Eigenvektor von $A^4 + A^3 + E_n$ | wahr <input type="radio"/> | falsch <input type="radio"/> |
| $A + A^T$ ist diagonalisierbar | wahr <input type="radio"/> | falsch <input type="radio"/> |
| Wenn A orthogonal ist, dann gilt $\text{Rg}(A) = n$ | wahr <input type="radio"/> | falsch <input type="radio"/> |
| Wenn A lauter verschiedene Eigenwerte hat, dann ist A diagonalisierbar | wahr <input type="radio"/> | falsch <input type="radio"/> |
| A ist regulär genau dann, wenn 0 Eigenwert von A ist | wahr <input type="radio"/> | falsch <input type="radio"/> |

Aufgabe 4 (13 Punkte) Gegeben ist die Matrix

$$A = \begin{pmatrix} -1 & 2 & 2 \\ 2 & 2 & -1 \\ 2 & -1 & 2 \end{pmatrix}.$$

- Verifizieren Sie, dass $x_1 = (0, 1, -1)^T$ ein Eigenvektor von A ist. Wie lautet der zugehörige Eigenwert λ_1 ? $\lambda_1 = \square$
- Der zu λ_1 gehörige Eigenraum $V(\lambda_1)$ ist zweidimensional. Geben Sie eine orthogonale Basis von $V(\lambda_1)$ an:

$$x_1 = \begin{pmatrix} 0 \\ 1 \\ -1 \end{pmatrix}; x_2 = \begin{pmatrix} \square \\ \square \\ \square \end{pmatrix}.$$

- Bestimmen Sie eine Orthonormalbasis von \mathbb{R}^3 aus Eigenvektoren von A :

$$\begin{pmatrix} \square \\ \square \\ \square \end{pmatrix}, \begin{pmatrix} \square \\ \square \\ \square \end{pmatrix}, \begin{pmatrix} \square \\ \square \\ \square \end{pmatrix}.$$

- Geben Sie die zugehörigen Eigenwerte an:

$$\square, \square, \square.$$

- Geben Sie eine orthogonale Matrix T an, so dass $T^{-1}AT = D$ eine Diagonalmatrix ist. Wie lautet D ?

$$T = \begin{pmatrix} \square & \square & \square \\ \square & \square & \square \\ \square & \square & \square \end{pmatrix}; D = \begin{pmatrix} \square & & \\ & \square & \\ & & \square \end{pmatrix}.$$

Aufgabe 5 (8 Punkte) Gegeben sei die Matrix A :

$$A = \begin{pmatrix} -2 & 3 & 1 \\ 2 & 1 & 4 \\ 3 & 0 & -1 \end{pmatrix}$$

Entwickeln Sie $\det(A - \lambda E_3)$ nach der 2. Spalte:

$$\det(A - \lambda E_3) = \boxed{} \cdot \det \begin{pmatrix} & & \\ & & \\ & & \end{pmatrix} + \boxed{} \cdot \det \begin{pmatrix} & & \\ & & \\ & & \end{pmatrix} + \boxed{} \cdot \det \begin{pmatrix} & & \\ & & \\ & & \end{pmatrix}$$

Geben Sie das charakteristische Polynom χ_A von A an:

$$\chi_A(\lambda) = \boxed{}$$

Aufgabe 6 (14 Punkte) Gegeben sind die Matrix

$$A = \begin{pmatrix} 0 & 2 & -12 \\ 1 & -1 & 14 \\ -1 & -1 & 4 \end{pmatrix} \quad \text{und die reguläre Matrix} \quad B = \begin{pmatrix} 1 & 3 & -2 \\ -4 & -13 & 10 \\ 2 & 7 & -8 \end{pmatrix}.$$

Das charakteristische Polynom von A ist

$$\chi_A(\lambda) = -(\lambda - 2)(\lambda^2 - \lambda - 6).$$

1. Bestimmen Sie die Eigenwerte der Matrix A :

$$\lambda_1 = \boxed{}, \quad \lambda_2 = \boxed{}, \quad \lambda_3 = \boxed{}.$$

Berechnen Sie zu jedem Eigenwert einen Eigenvektor:

$$x_1 = \begin{pmatrix} \\ \\ \end{pmatrix}, \quad x_2 = \begin{pmatrix} \\ \\ \end{pmatrix}, \quad x_3 = \begin{pmatrix} \\ \\ \end{pmatrix}.$$

2. Geben Sie die Eigenwerte der Matrix $C = B^{-1}AB$ an:

$$\lambda_1 = \boxed{}, \quad \lambda_2 = \boxed{}, \quad \lambda_3 = \boxed{}.$$

3. Berechnen Sie: $\det B = \boxed{}$, $\det A = \boxed{}$, $\det(B^{-1}A) = \boxed{}$, $\text{Sp} C = \boxed{}$

Aufgabe 7 (5 Punkte) Gegeben ist die Matrix

$$A = \begin{pmatrix} \frac{1}{2} & a & \frac{1}{\sqrt{2}} \\ -\frac{1}{2} & b & \frac{1}{\sqrt{2}} \\ \frac{\sqrt{2}}{2} & c & 0 \end{pmatrix}$$

Geben Sie den zweiten Spaltenvektor der Matrix A so an, dass A orthogonal ist mit $\det A = 1$:

$(a, b, c) =$

Aufgabe 8 (11 Punkte)

Gegeben sei die Quadrik $Q = \left\{ (x_1, x_2, x_3)^T \in \mathbb{R}^3 \mid x_1^2 - x_2^2 - x_3^2 + 1 = 0 \right\}$.

1. Schneiden Sie die Quadrik Q mit der Ebene $x_2 = 0$.

Gleichung für den Schnitt:

Gestalt des Schnitts:

2. Schneiden Sie die Quadrik Q mit der Ebene $x_1 = -3$.

Gleichung für den Schnitt:

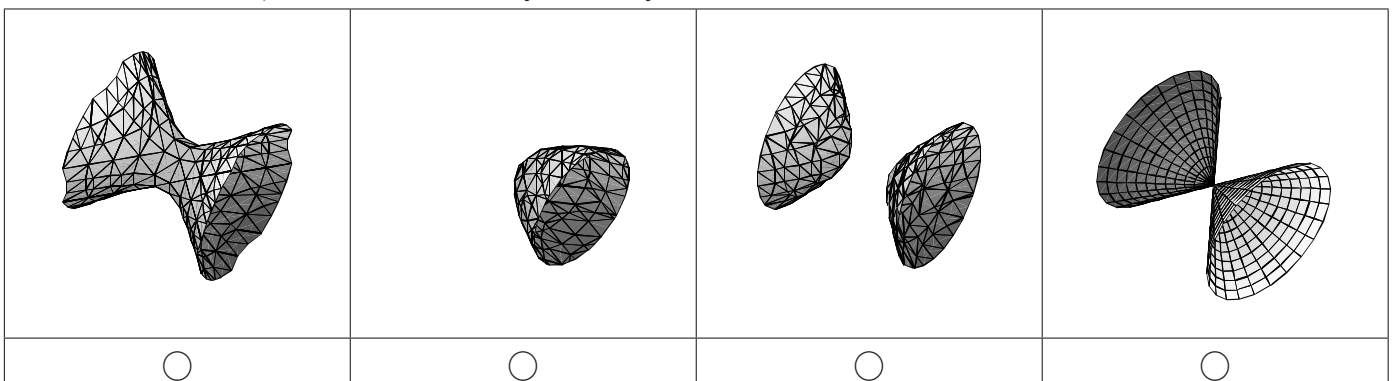
Gestalt des Schnitts:

3. Schneiden Sie die Quadrik Q mit der Ebene $x_2 = 1$.

Gleichung für den Schnitt:

Gestalt des Schnitts:

4. Kreuzen Sie an, welches Bild die Quadrik Q darstellt:



Name:

Matrikelnr.:

Fach:

Aufgabe	1	2	3	4	5	6	7	8	Summe
Punkte									

Bitte beachten Sie die folgenden **Hinweise**:

- **Bearbeitungszeit:** 90 Minuten
- **Erlaubte Hilfsmittel:** Zwei handschriftlich beschriebene Seiten DIN A4 Papier.
- Es wird nur die Angabe von Endergebnissen verlangt. Nebenrechnungen werden nicht gewertet und daher auch nicht eingesammelt.

Viel Erfolg!

Aufgabe 1 (1 Punkt) Bitte geben Sie den Namen Ihres Tutors bzw. Ihrer Tutorin und die Nummer Ihrer Übungsgruppe an.

Name des Tutors/der Tutorin:

Gruppennr.:

Aufgabe 2 (6 Punkte) Gegeben sei \mathbb{R}^2 mit Standardkoordinatensystem $\mathbb{E} = (\vec{0}; e_1, e_2)$. Darin sind die Punkte P_0 , P_1 und P_2 gegeben durch:

$${}_{\mathbb{E}}P_0 = (2, -1), \quad {}_{\mathbb{E}}P_1 = (4, 3), \quad {}_{\mathbb{E}}P_2 = (1, -2).$$

Gesucht ist nun ein zweites Koordinatensystem $\mathbb{F} = (U; f_1, f_2)$ mit

$${}_{\mathbb{F}}P_0 = (0, 0), \quad {}_{\mathbb{F}}P_1 = (1, 0), \quad {}_{\mathbb{F}}P_2 = (0, 1).$$

Geben Sie das Koordinatensystem \mathbb{F} und die Koordinatentransformation ${}_{\mathbb{E}}\kappa_{\mathbb{F}}$ an:

$$\mathbb{F} = \left(\begin{array}{c} \boxed{} \\ \boxed{} \\ \boxed{} \end{array} ; \begin{array}{c} \boxed{} \\ \boxed{} \\ \boxed{} \end{array} , \begin{array}{c} \boxed{} \\ \boxed{} \\ \boxed{} \end{array} \right) \quad {}_{\mathbb{E}}\kappa_{\mathbb{F}} : \mathbb{R}^2 \rightarrow \mathbb{R}^2 \quad v \mapsto \begin{pmatrix} \boxed{} \\ \boxed{} \end{pmatrix} \cdot v + \begin{pmatrix} \boxed{} \\ \boxed{} \end{pmatrix}.$$

Aufgabe 3 (6 Punkte) Sei $A \in \mathbb{R}^{n \times n}$ und sei v ein Eigenvektor von A . Kreuzen Sie an, welche der folgenden Aussagen wahr bzw. falsch sind (Achtung, falsche Antworten geben Abzug):

- Wenn A lauter verschiedene Eigenwerte hat, dann ist A diagonalisierbar wahr falsch
 $A + A^T$ ist diagonalisierbar wahr falsch
 A ist regulär genau dann, wenn 0 Eigenwert von A ist wahr falsch
 Wenn A orthogonal ist, dann gilt $\text{Rg}(A) = n$ wahr falsch
 Wenn A diagonalisierbar ist, dann hat A lauter verschiedene Eigenwerte wahr falsch
 v ist Eigenvektor von $A^4 + A^3 + E_n$ wahr falsch

Aufgabe 4 (13 Punkte) Gegeben ist die Matrix

$$A = \begin{pmatrix} -2 & -2 & 2 \\ -2 & 1 & -4 \\ 2 & -4 & 1 \end{pmatrix}.$$

- Verifizieren Sie, dass $x_1 = (2, 2, 1)^T$ ein Eigenvektor von A ist. Wie lautet der zugehörige Eigenwert λ_1 ? $\lambda_1 = \square$
- Der zu λ_1 gehörige Eigenraum $V(\lambda_1)$ ist zweidimensional. Geben Sie eine orthogonale Basis von $V(\lambda_1)$ an:

$$x_1 = \begin{pmatrix} 2 \\ 2 \\ 1 \end{pmatrix}; x_2 = \begin{pmatrix} \square \\ \square \\ \square \end{pmatrix}.$$

- Bestimmen Sie eine Orthonormalbasis von \mathbb{R}^3 aus Eigenvektoren von A :

$$\begin{pmatrix} \square \\ \square \\ \square \end{pmatrix}, \begin{pmatrix} \square \\ \square \\ \square \end{pmatrix}, \begin{pmatrix} \square \\ \square \\ \square \end{pmatrix}.$$

- Geben Sie die zugehörigen Eigenwerte an:

$$\square, \square, \square.$$

- Geben Sie eine orthogonale Matrix T an, so dass $T^{-1}AT = D$ eine Diagonalmatrix ist. Wie lautet D ?

$$T = \begin{pmatrix} \square & \square & \square \\ \square & \square & \square \\ \square & \square & \square \end{pmatrix}; D = \begin{pmatrix} \square & & \\ & \square & \\ & & \square \end{pmatrix}.$$

Aufgabe 5 (8 Punkte) Gegeben sei die Matrix A :

$$A = \begin{pmatrix} 2 & 0 & -1 \\ 4 & -2 & 1 \\ 2 & 3 & -1 \end{pmatrix}$$

Entwickeln Sie $\det(A - \lambda E_3)$ nach der 2. Spalte:

$$\det(A - \lambda E_3) = \boxed{} \cdot \det \begin{pmatrix} \boxed{} & \boxed{} & \boxed{} \\ \boxed{} & \boxed{} & \boxed{} \\ \boxed{} & \boxed{} & \boxed{} \end{pmatrix} + \boxed{} \cdot \det \begin{pmatrix} \boxed{} & \boxed{} & \boxed{} \\ \boxed{} & \boxed{} & \boxed{} \\ \boxed{} & \boxed{} & \boxed{} \end{pmatrix} + \boxed{} \cdot \det \begin{pmatrix} \boxed{} & \boxed{} & \boxed{} \\ \boxed{} & \boxed{} & \boxed{} \\ \boxed{} & \boxed{} & \boxed{} \end{pmatrix}$$

Geben Sie das charakteristische Polynom χ_A von A an:

$$\chi_A(\lambda) = \boxed{}$$

Aufgabe 6 (14 Punkte) Gegeben sind die Matrix

$$A = \begin{pmatrix} -11 & 6 & -18 \\ -2 & 1 & -4 \\ 7 & -3 & 12 \end{pmatrix} \quad \text{und die reguläre Matrix} \quad B = \begin{pmatrix} 1 & 3 & -2 \\ -4 & -13 & 10 \\ 2 & 7 & -8 \end{pmatrix}.$$

Das charakteristische Polynom von A ist

$$\chi_A(\lambda) = -(\lambda + 2)(\lambda^2 - 4\lambda + 3).$$

1. Bestimmen Sie die Eigenwerte der Matrix A :

$$\lambda_1 = \boxed{}, \quad \lambda_2 = \boxed{}, \quad \lambda_3 = \boxed{}.$$

Berechnen Sie zu jedem Eigenwert einen Eigenvektor:

$$x_1 = \begin{pmatrix} \boxed{} \\ \boxed{} \\ \boxed{} \end{pmatrix}, \quad x_2 = \begin{pmatrix} \boxed{} \\ \boxed{} \\ \boxed{} \end{pmatrix}, \quad x_3 = \begin{pmatrix} \boxed{} \\ \boxed{} \\ \boxed{} \end{pmatrix}.$$

2. Geben Sie die Eigenwerte der Matrix $C = B^{-1}AB$ an:

$$\lambda_1 = \boxed{}, \quad \lambda_2 = \boxed{}, \quad \lambda_3 = \boxed{}.$$

3. Berechnen Sie: $\det B = \boxed{}$, $\det A = \boxed{}$, $\det(B^{-1}A) = \boxed{}$, $\text{Sp} C = \boxed{}$

Aufgabe 7 (5 Punkte) Gegeben ist die Matrix

$$A = \begin{pmatrix} \frac{1}{\sqrt{3}} & a & 0 \\ -\frac{1}{\sqrt{3}} & b & \frac{1}{\sqrt{2}} \\ \frac{1}{\sqrt{3}} & c & \frac{1}{\sqrt{2}} \end{pmatrix}$$

Geben Sie den zweiten Spaltenvektor der Matrix A so an, dass A orthogonal ist mit $\det A = 1$:

$(a, b, c) =$

Aufgabe 8 (11 Punkte)

Gegeben sei die Quadrik $Q = \left\{ (x_1, x_2, x_3)^T \in \mathbb{R}^3 \mid -x_1^2 + x_2^2 - x_3^2 - 1 = 0 \right\}$.

1. Schneiden Sie die Quadrik Q mit der Ebene $x_3 = 0$.

Gleichung für den Schnitt:

Gestalt des Schnitts:

2. Schneiden Sie die Quadrik Q mit der Ebene $x_2 = 2$.

Gleichung für den Schnitt:

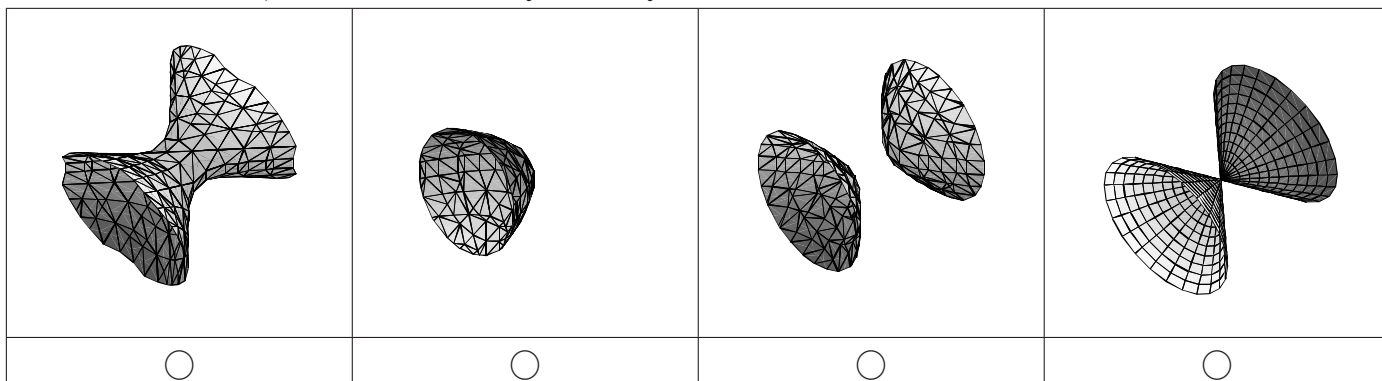
Gestalt des Schnitts:

3. Schneiden Sie die Quadrik Q mit der Ebene $x_2 = 0$.

Gleichung für den Schnitt:

Gestalt des Schnitts:

4. Kreuzen Sie an, welches Bild die Quadrik Q darstellt:



Name:

Matrikelnr.:

Fach:

Aufgabe	1	2	3	4	5	6	7	8	Summe
Punkte									

Bitte beachten Sie die folgenden **Hinweise**:

- **Bearbeitungszeit:** 90 Minuten
- **Erlaubte Hilfsmittel:** Zwei handschriftlich beschriebene Seiten DIN A4 Papier.
- Es wird nur die Angabe von Endergebnissen verlangt. Nebenrechnungen werden nicht gewertet und daher auch nicht eingesammelt.

Viel Erfolg!

Aufgabe 1 (1 Punkt) Bitte geben Sie den Namen Ihres Tutors bzw. Ihrer Tutorin und die Nummer Ihrer Übungsgruppe an.

Name des Tutors/der Tutorin:

Gruppennr.:

Aufgabe 2 (6 Punkte) Gegeben sei \mathbb{R}^2 mit Standardkoordinatensystem $\mathbb{E} = (\vec{0}; e_1, e_2)$. Darin sind die Punkte P_0 , P_1 und P_2 gegeben durch:

$${}_{\mathbb{E}}P_0 = (-2, -3), \quad {}_{\mathbb{E}}P_1 = (6, 5), \quad {}_{\mathbb{E}}P_2 = (4, 6).$$

Gesucht ist nun ein zweites Koordinatensystem $\mathbb{F} = (U; f_1, f_2)$ mit

$${}_{\mathbb{F}}P_0 = (0, 0), \quad {}_{\mathbb{F}}P_1 = (1, 0), \quad {}_{\mathbb{F}}P_2 = (0, 1).$$

Geben Sie das Koordinatensystem \mathbb{F} und die Koordinatentransformation ${}_{\mathbb{E}}\kappa_{\mathbb{F}}$ an:

$$\mathbb{F} = \left(\begin{pmatrix} \\ \end{pmatrix}; \begin{pmatrix} \\ \end{pmatrix}, \begin{pmatrix} \\ \end{pmatrix} \right) \quad {}_{\mathbb{E}}\kappa_{\mathbb{F}} : \mathbb{R}^2 \rightarrow \mathbb{R}^2 \quad v \mapsto \begin{pmatrix} \\ \end{pmatrix} \cdot v + \begin{pmatrix} \\ \end{pmatrix}.$$

Aufgabe 3 (6 Punkte) Sei $A \in \mathbb{R}^{n \times n}$ und sei v ein Eigenvektor von A . Kreuzen Sie an, welche der folgenden Aussagen wahr bzw. falsch sind (Achtung, falsche Antworten geben Abzug):

- A ist regulär genau dann, wenn 0 Eigenwert von A ist wahr falsch
 Wenn A orthogonal ist, dann gilt $\text{Rg}(A) = n$ wahr falsch
 Wenn A lauter verschiedene Eigenwerte hat, dann ist A diagonalisierbar wahr falsch
 v ist Eigenvektor von $2A^4 + A^2 + E_n$ wahr falsch
 Wenn A diagonalisierbar ist, dann hat A lauter verschiedene Eigenwerte wahr falsch
 $A + A^T$ ist diagonalisierbar wahr falsch

Aufgabe 4 (13 Punkte) Gegeben ist die Matrix

$$A = \begin{pmatrix} 8 & -1 & 4 \\ -1 & 8 & 4 \\ 4 & 4 & -7 \end{pmatrix}.$$

- Verifizieren Sie, dass $x_1 = (-1, 1, 0)^T$ ein Eigenvektor von A ist. Wie lautet der zugehörige Eigenwert λ_1 ? $\lambda_1 = \square$
- Der zu λ_1 gehörige Eigenraum $V(\lambda_1)$ ist zweidimensional. Geben Sie eine orthogonale Basis von $V(\lambda_1)$ an:

$$x_1 = \begin{pmatrix} -1 \\ 1 \\ 0 \end{pmatrix}; x_2 = \begin{pmatrix} \square \\ \square \\ \square \end{pmatrix}.$$

- Bestimmen Sie eine Orthonormalbasis von \mathbb{R}^3 aus Eigenvektoren von A :

$$\begin{pmatrix} \square \\ \square \\ \square \end{pmatrix}, \begin{pmatrix} \square \\ \square \\ \square \end{pmatrix}, \begin{pmatrix} \square \\ \square \\ \square \end{pmatrix}.$$

- Geben Sie die zugehörigen Eigenwerte an:

$$\square, \square, \square.$$

- Geben Sie eine orthogonale Matrix T an, so dass $T^{-1}AT = D$ eine Diagonalmatrix ist. Wie lautet D ?

$$T = \begin{pmatrix} \square & \square & \square \\ \square & \square & \square \\ \square & \square & \square \end{pmatrix}; D = \begin{pmatrix} \square & & \\ & \square & \\ & & \square \end{pmatrix}.$$

Aufgabe 5 (8 Punkte) Gegeben sei die Matrix A :

$$A = \begin{pmatrix} 1 & 5 & -1 \\ 2 & -2 & 1 \\ 2 & 0 & -3 \end{pmatrix}$$

Entwickeln Sie $\det(A - \lambda E_3)$ nach der 2. Spalte:

$$\det(A - \lambda E_3) = \boxed{} \cdot \det \begin{pmatrix} \boxed{} & \boxed{} & \boxed{} \\ \boxed{} & \boxed{} & \boxed{} \\ \boxed{} & \boxed{} & \boxed{} \end{pmatrix} + \boxed{} \cdot \det \begin{pmatrix} \boxed{} & \boxed{} & \boxed{} \\ \boxed{} & \boxed{} & \boxed{} \\ \boxed{} & \boxed{} & \boxed{} \end{pmatrix} + \boxed{} \cdot \det \begin{pmatrix} \boxed{} & \boxed{} & \boxed{} \\ \boxed{} & \boxed{} & \boxed{} \\ \boxed{} & \boxed{} & \boxed{} \end{pmatrix}$$

Geben Sie das charakteristische Polynom χ_A von A an:

$$\chi_A(\lambda) = \boxed{}$$

Aufgabe 6 (14 Punkte) Gegeben sind die Matrix

$$A = \begin{pmatrix} -2 & 6 & 7 \\ 8 & -4 & -11 \\ -6 & 6 & 11 \end{pmatrix} \quad \text{und die reguläre Matrix} \quad B = \begin{pmatrix} 1 & 3 & -2 \\ -4 & -13 & 10 \\ 2 & 7 & -8 \end{pmatrix}.$$

Das charakteristische Polynom von A ist

$$\chi_A(\lambda) = -(\lambda - 2)(\lambda^2 - 3\lambda - 4).$$

1. Bestimmen Sie die Eigenwerte der Matrix A :

$$\lambda_1 = \boxed{}, \quad \lambda_2 = \boxed{}, \quad \lambda_3 = \boxed{}.$$

Berechnen Sie zu jedem Eigenwert einen Eigenvektor:

$$x_1 = \begin{pmatrix} \boxed{} \\ \boxed{} \\ \boxed{} \end{pmatrix}, \quad x_2 = \begin{pmatrix} \boxed{} \\ \boxed{} \\ \boxed{} \end{pmatrix}, \quad x_3 = \begin{pmatrix} \boxed{} \\ \boxed{} \\ \boxed{} \end{pmatrix}.$$

2. Geben Sie die Eigenwerte der Matrix $C = B^{-1}AB$ an:

$$\lambda_1 = \boxed{}, \quad \lambda_2 = \boxed{}, \quad \lambda_3 = \boxed{}.$$

3. Berechnen Sie: $\det B = \boxed{}$, $\det A = \boxed{}$, $\det(B^{-1}A) = \boxed{}$, $\text{Sp } C = \boxed{}$

Aufgabe 7 (5 Punkte) Gegeben ist die Matrix

$$A = \begin{pmatrix} -\frac{\sqrt{2}}{2} & a & 0 \\ \frac{1}{2} & b & \frac{1}{\sqrt{2}} \\ -\frac{1}{2} & c & \frac{1}{\sqrt{2}} \end{pmatrix}$$

Geben Sie den zweiten Spaltenvektor der Matrix A so an, dass A orthogonal ist mit $\det A = 1$:

$(a, b, c) =$

Aufgabe 8 (11 Punkte)

Gegeben sei die Quadrik $Q = \left\{ (x_1, x_2, x_3)^T \in \mathbb{R}^3 \mid -x_1^2 + x_2^2 - x_3^2 + 1 = 0 \right\}$.

1. Schneiden Sie die Quadrik Q mit der Ebene $x_1 = 0$.

Gleichung für den Schnitt:

Gestalt des Schnitts:

2. Schneiden Sie die Quadrik Q mit der Ebene $x_2 = 4$.

Gleichung für den Schnitt:

Gestalt des Schnitts:

3. Schneiden Sie die Quadrik Q mit der Ebene $x_1 = -1$.

Gleichung für den Schnitt:

Gestalt des Schnitts:

4. Kreuzen Sie an, welches Bild die Quadrik Q darstellt:

